


Het getal van de dag



Schrijf het getal in letters

.....

bedenk een som

$$\square + \square = \dots\dots$$



welk tiental is dichtbij

erbij 10

eraf 10

erbij 15

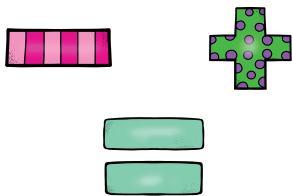
eraf 15

keer 2


keer 3

wat is de helft ?

wat is het dubbele ?



wie zijn de burenen ?

plaats het getal op de getallenlijn

